

Opgave 1. De conjunctuur van Nederland 2011

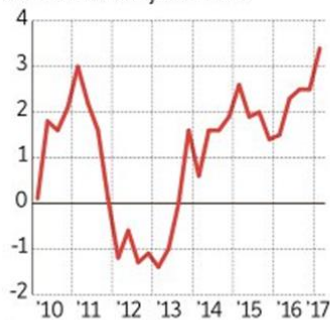
In 2009 vond de kredietcrisis plaats, met als gevolg een economische krimp van 3,4% in 2009. In 2010 was er voorzichtig herstel, maar in 2011 ging het weer mis. Deze “dubbele dip” in de economie werd volgens veel economen veroorzaakt omdat de overheid niet ingreep, maar bezuinigde. De overheid had in 2009 al miljarden extra uitgegeven om veel Nederlandse banken te redden van de ondergang. Om die reden bleef ze bezuinigen in 2011 en 2012.

Bron 1. Uit het NRC van 17 mei 2017

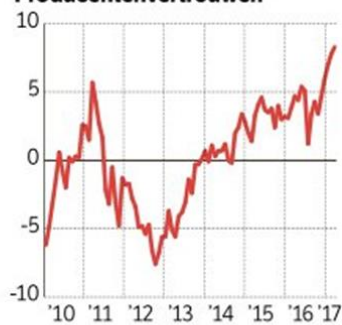
Groei zet verder door

Economische groei

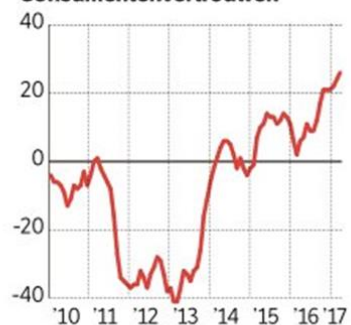
%-mutatie t.o.v. jaar eerder



Producentenvertrouwen*



Consumentenvertrouwen*



* Gemiddelde van positieve en negatieve antwoorden

NRC 160517 / EvG / Bron: CBS

1. Is het overheidsbeleid in 2011 en 2012 cyclisch of anticyclisch te noemen? Leg uit waarom.
2. Leg uit hoe een bezuinigende overheid de “dubbele dip” kon veroorzaken.
3. Had 2011 volgens bron1, over het hele jaar gemeten economische groei of economische krimp? Leg uit waarom.
4. In welke periode was er sprake van een recessie volgens bron1?
5. Kun je deze periode ook als een depressie zien? Leg uit waarom.
6. Welke indicator voorspelde als eerste herstel van de crisis van 2011 – 2013?